

(5)跟著十八世紀的法國人捕魚去 [學習單] 國小高年級

_____國小_____年_____班 姓名：_____座號：

Q1. 漁業活動依據離岸距離分為養殖、沿岸、近海、遠洋漁業等四大類型。請將下列4張版畫描繪的捕魚地點，依其離岸距離由近到遠依序排列。




圖 1




圖 2



圖 3




圖 4

A1. _____

Q2. 遠洋漁業是指漁民需要遠渡重洋，長年在大型遠洋漁船上與海搏鬥的大規模漁業活動。

請問遠洋漁業的漁船是在我國多少經濟海域以外從事漁撈作業？1)12 浬內、2)12 到 200 浬、3)200 浬、4)250 浬。

A2. _____

Q3. 1860 年人類使用特定重量的鯨蠟燭，以特定的速度燃燒，制定出基本的燈光測量單位稱為「燭光」。
19 世紀時人類大量捕抓鯨魚，請問是用鯨魚身體的哪一部分作成鯨蠟燭，照亮漆黑的夜晚？

A3. _____

Q4. 19 世紀人類濫捕鯨魚，牠們已經瀕臨絕種。1986 年國際捕鯨委員會通過了『全球禁止捕鯨公約』，主要是禁止商業捕鯨，讓鯨類維持適當的數量，以免絕種。
請問目前仍有哪 3 個國家不遵守公約，每年仍然屠殺大量的鯨魚？

A4. _____

Q5. 在四週環海的蘭嶼，拼板舟是台灣原住民達悟族所使用的船，使用木板與木釘等組合而成。注意看看船頭、船身有特別的圖案。請問以下 3 種圖案各是表示什麼特殊的意思？



A5. 魚眼紋：

菱形紋：

人形紋：